


KARTKUNSKAP

Du använder det geografiska verktyget atlas för att identifiera vilka kartor du ska använda.

p



För att skriva det här provet behöver du Gleerups Stora Skolatlas.

- 1 Använd kartboken för att besvara fråga 1.
På vilka sidor i kartboken hittar man de här platserna?

(3p)

- 2 Använd kartboken för att besvara fråga 2.
Vilken älv rinner genom _____

(2p)

- 3 Använd kartboken för att besvara fråga 3.
Vilken stor stad ligger närmst _____

(2p)

Du använder det geografiska verktyget koordinater för att bestämma olika platser positioner

p

Slå upp sidan [redacted] i kartboken för att besvara fråga 4.

Använd sida [redacted] för att besvara fråga 4.

(4p)

4 Vilken stad ligger nära de här koordinaterna?

[redacted], [redacted]? _____

[redacted], [redacted]? _____

[redacted], [redacted]? _____

Slå upp sidan [redacted] i kartboken för att besvara fråga 5 och 6.

5 Vilka koordinater har [redacted] ligger jämte [redacted], högt upp till vänster på sidan [redacted]

(2p)

6 Vilka koordinater har [redacted] ligger i [redacted] högt upp, i mitten av uppslaget av sidorna [redacted]

(3p)


Slå upp sidan [redacted] i kartboken för att besvara fråga 7.

7 Vilka koordinater ligger [redacted] ligger högt upp, mitt i uppslaget, jämte [redacted] på?

(4p)

Du använder det geografiska verktyget tematiska kartor för att analysera förhållanden i olika regioner


p



Slå upp sidan [redacted] i kartboken för att besvara fråga 8,9 och 10.

Längst till höger (Längst ner om man vänder boken åt rätt håll) finns fyra kartor. Använd [redacted] för uppgift 8.

8 I vilken del av [redacted] ligger de regioner där [redacted]? (ringa in rätt del av [redacted]) (1p)



Välj rätt karta på sidan [redacted] och besvara uppgift 9.

9 Hur många [redacted] finns det i [redacted]? (2p)

Välj rätt kartor på sidan [redacted] och besvara uppgift 10.

10 I vilken [redacted] region stämmer de här två påståendena? (4p)

- [redacted]
- [redacted]

Du har förmågan att självständigt besvara geografiska frågor med hjälp av geografiska verktyg och metoder

p

VIKTIGT!


Den här frågan är svår. Du får ingen hjälp med den, utan tanken är att du på egen hand ska lösa problemet. Gör ett försök! Misslyckas du kan du fortfarande nå högt på de andra frågorna men det är på den här frågan du tydligt kan visa om du har kunskaper som ligger högre än C. Lycka till!

11 Använd kartboken för att besvara fråga 11.
Vilka koordinater har _____ och hur många _____ av regionen _____ som _____ ligger i _____?

(10p)

Koordinater: _____

_____ :



FÖRMÅGA ATT HITTA I EN KARTBOK

10p

Du kan använda kartor för några olika ändamål, vilket befränsat ändå motsvarar ett i huvudsak fungerande sätt. Därmed har du nått en nivå som minst motsvarar en svag E-nivå.



FÖRMÅGA ATT ANVÄNDA GRADNÄTET

16p

Du kan använda kartor för flera olika ändamål, vilket motsvarar ett i huvudsak fungerande sätt. Därmed har du nått en nivå som minst motsvarar en stark E-nivå.



FÖRMÅGA ATT TOLKA TEMATISKA KARTOR

24p

Du bra koll på hur man använder kartor, vilket motsvarar ett fungerande sätt. Därmed har du nått en nivå som minst motsvarar en C-nivå.



FÖRMÅGA ATT SJÄLVSTÄNDIGT LÖSA PROBLEM MED KARTA

32p

Du greppar allt och arbetar självständigt med kartor som verktyg, vilket motsvarar ett väl fungerande sätt. Därmed har du nått en nivå som motsvarar en A-nivå.



DIN SAMMANLAGDA KARTKUNSKAP

37p

Maxpoängen på detta provet